
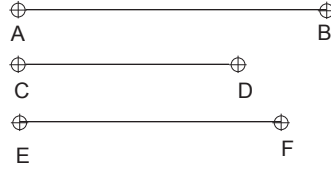


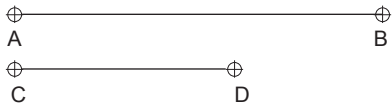
Determinar la tercera proporcional de los segmentos AB y CD.




Determinar la cuarta proporcional de los segmentos AB, CD y EF.



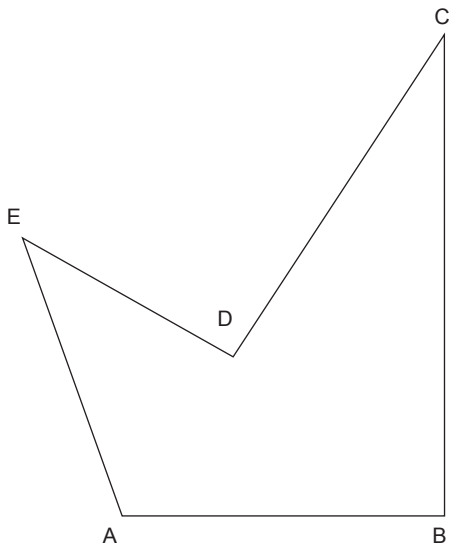
Determinar la media proporcional de los segmentos AB y CD.



Determinar el rectángulo áureo de lado AB.



Copiar la figura ABCDE por cualquiera de los métodos vistos.



Proporcionalidad.

NOMBRE:

CURSO:

FECHA:

